



# Latihan Soal Matematika

Nama Siswa:

Kelas:



**Soal Latihan Halaman 77**

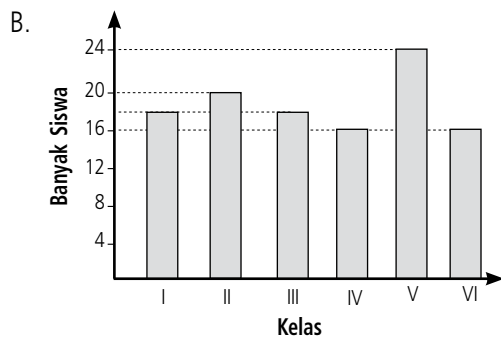
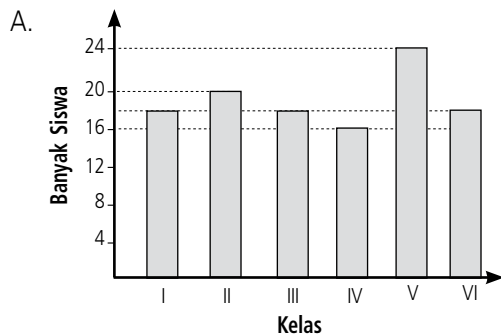


**Kotak Lembar Jawaban**

1. Berikut adalah data banyak siswa kelas I sampai kelas VI di SD Erlas.

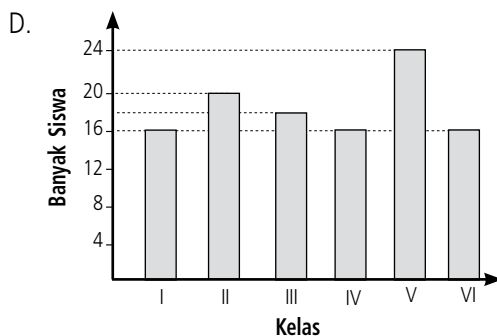
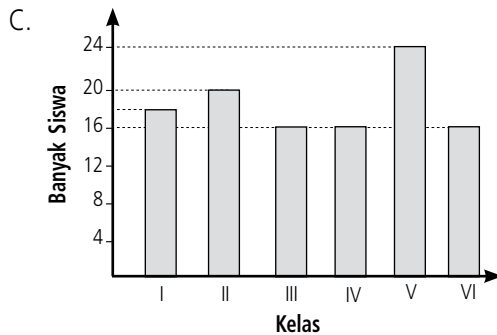
Kelas	Banyak Siswa
I	18
II	20
III	18
IV	16
V	24
VI	16

Diagram batang yang mewakili data tersebut adalah . . . .

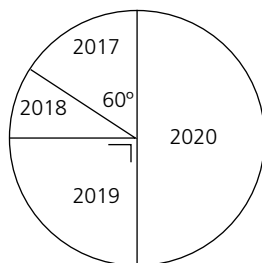




# Latihan Soal Matematika




2. Perhatikan data banyak siswa baru yang diterima di SD Erlas selama empat tahun pada diagram lingkaran berikut.



Jika banyak siswa yang diterima pada tahun 2018 ada 60 orang, banyak siswa yang diterima pada tahun 2020 adalah . . . .

- A. 50 orang                      C. 100 orang  
 B. 60 orang                      D. 120 orang





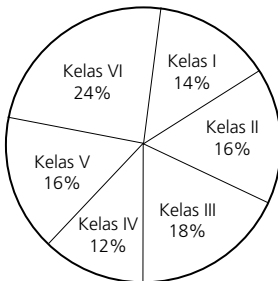
# Latihan Soal Matematika

3. Berikut adalah data banyak siswa yang berkecamata di SD Erlas.

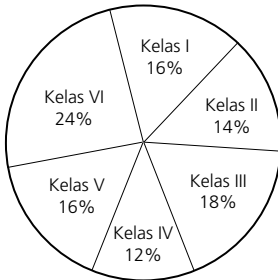
Kelas	Banyak Siswa
I	7
II	8
III	9
IV	6
V	8
VI	12

Diagram lingkaran yang sesuai dengan data tersebut adalah . . . .

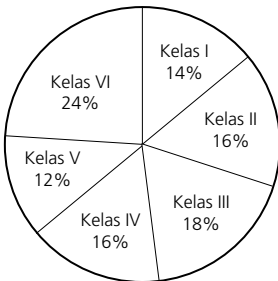
A.



B.



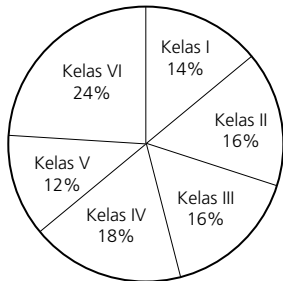
C.



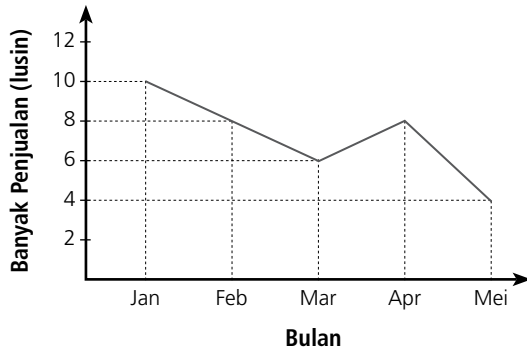


# Latihan Soal Matematika

D.

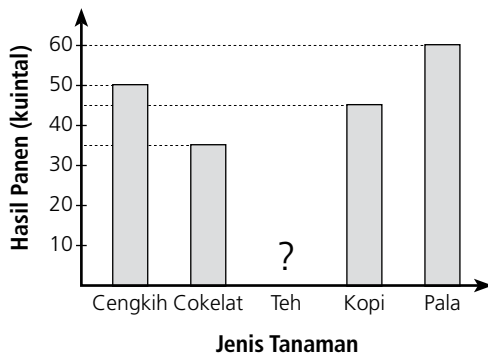


4. Berikut adalah data hasil penjualan buku di sebuah toko selama lima bulan.



Kenaikan penjualan buku terjadi pada bulan . . . , sebanyak . . . lusin.

5. Perhatikan diagram batang berikut.



Jika rata-rata hasil panen 46 kuintal, berapa kuintal hasil panen teh?

